

# Problemi di ottimizzazione 1

# Costruire una scatola

**Per costruire una scatola uso un cartoncino quadrato. Ritaglio ai quattro vertici quattro quadratini uguali e ripiego le strisce ottenute.**

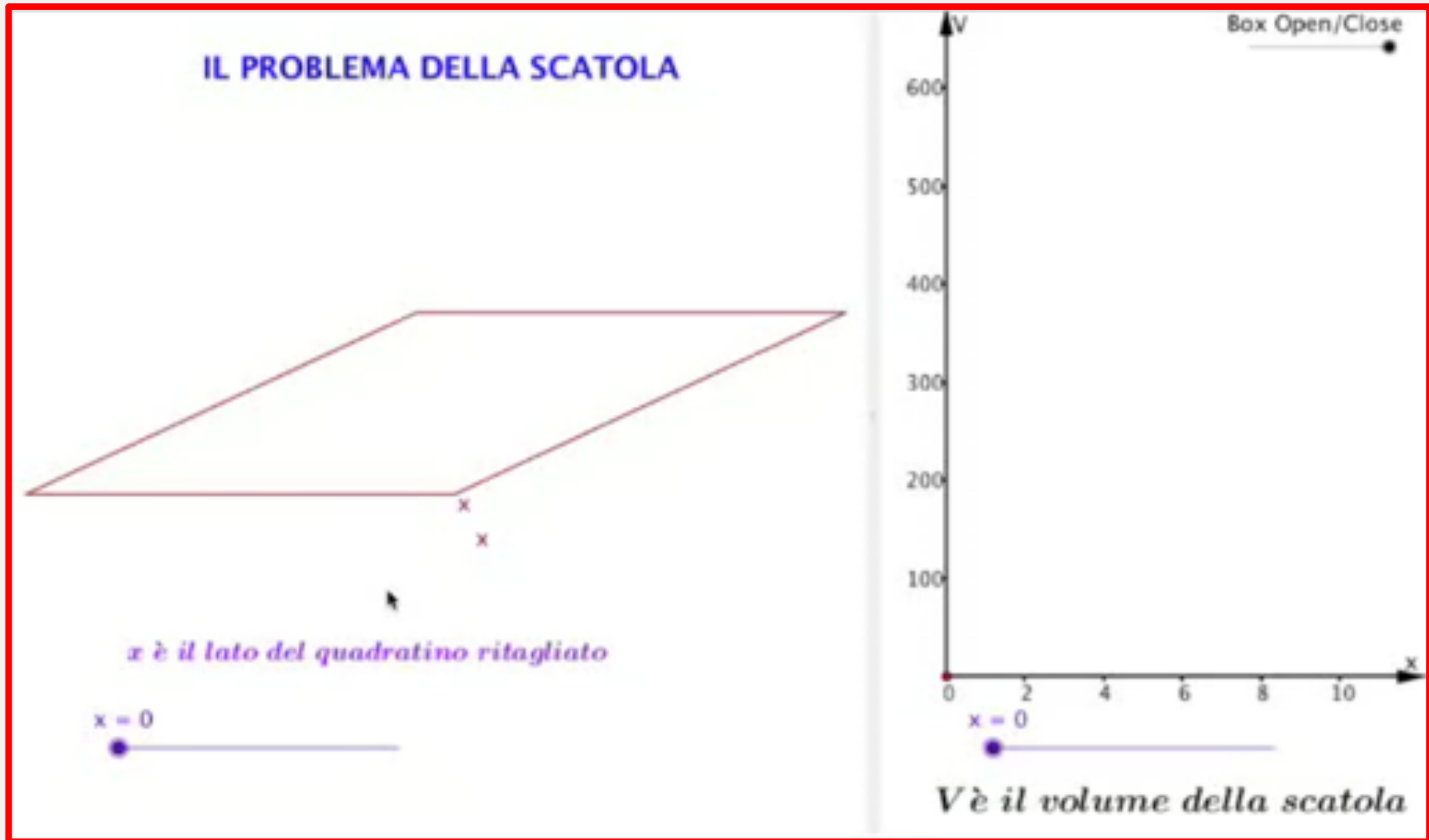


# Il volume delle scatole

Per una produzione più ampia uso tanti cartoncini uguali, ma vario il lato del quadratino ritagliato.  
Varia il volume delle scatole?



# 'Vedere' il volume delle scatole

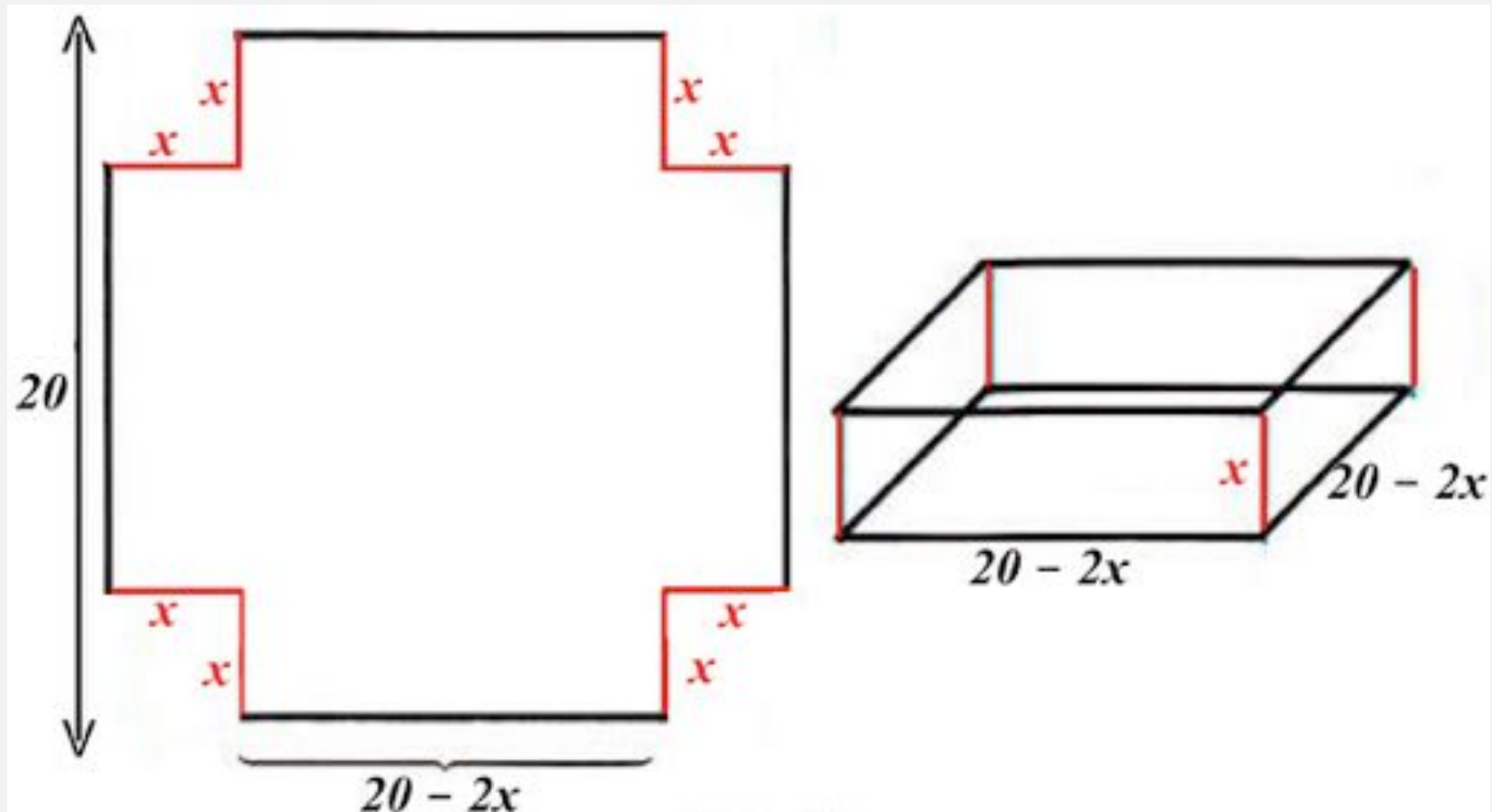


## Video 1

**Come posso trovare la scatola  
con volume massimo?**

# Esprimo il volume $y$ in funzione di $x$

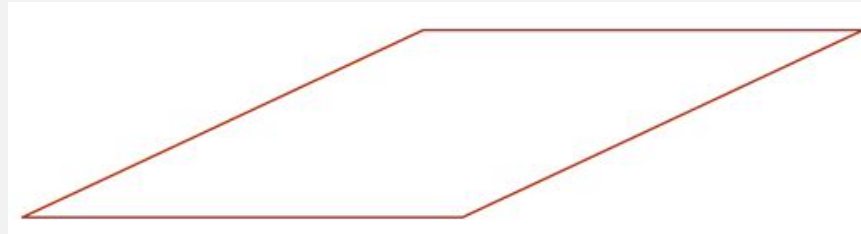
I fogli quadrati di cartoncino hanno il lato lungo 20cm



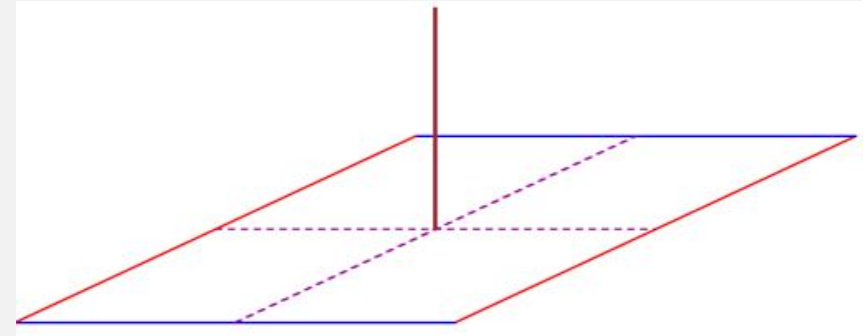
$$y = x(20 - 2x)^2$$

# Casi limite e dominio della funzione

## Casi limite



la scatola si schiaccia  
sul quadrato di lato 20



la scatola diventa  
'un filo' lungo 10

**In entrambi i casi il volume  $y$  vale zero.**

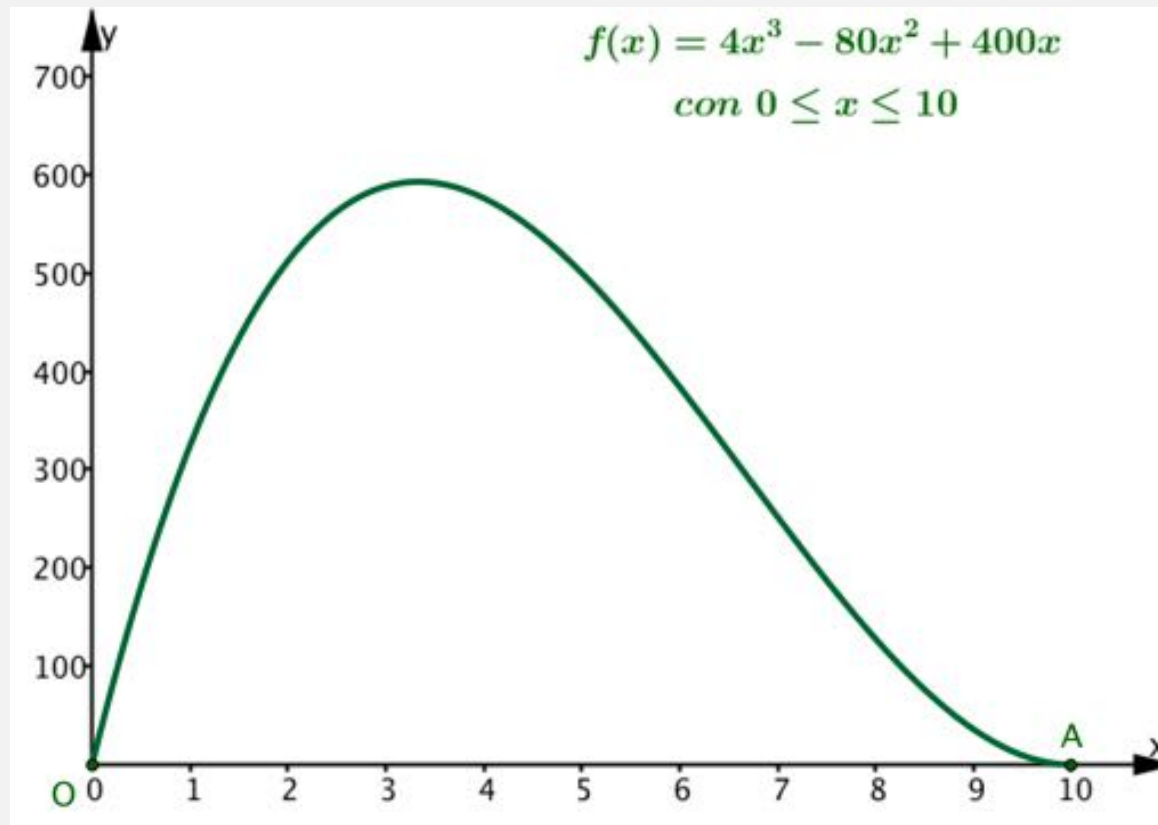
## Dominio della funzione

Ottengo una scatola che ha volume  $y \geq 0$  solo se scelgo  $x$  compresa fra 0 e 10, perciò il dominio della funzione è:

**l'intervallo  $[0, 10]$**

# Riflessioni sul grafico della funzione

Il video ha mostrato il grafico di questa funzione

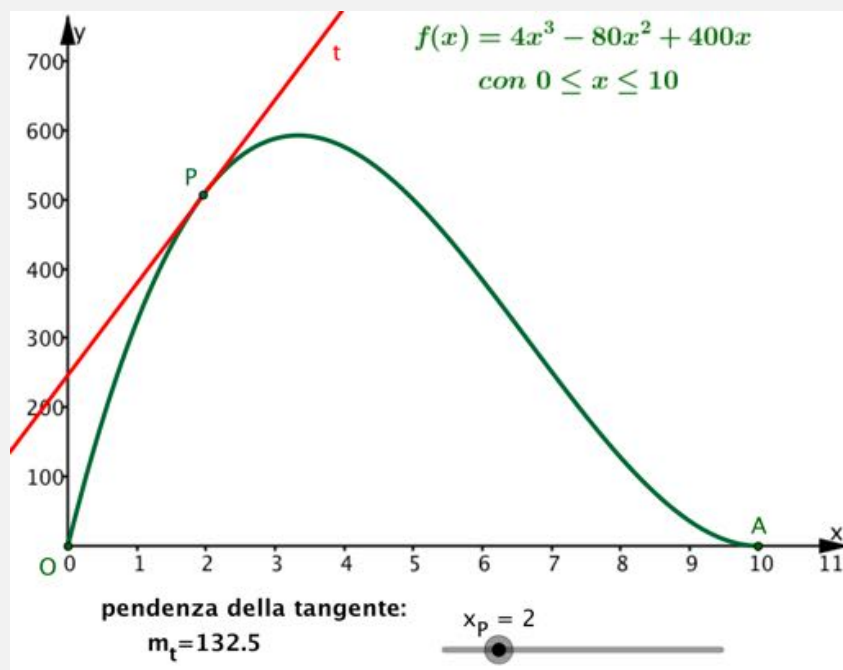


**È un arco di curva che inizia in  $O(0, 0)$ , poi sale fino a un'ordinata massima vicina a 600 e quindi riscende fino ad  $A(10, 0)$ .**

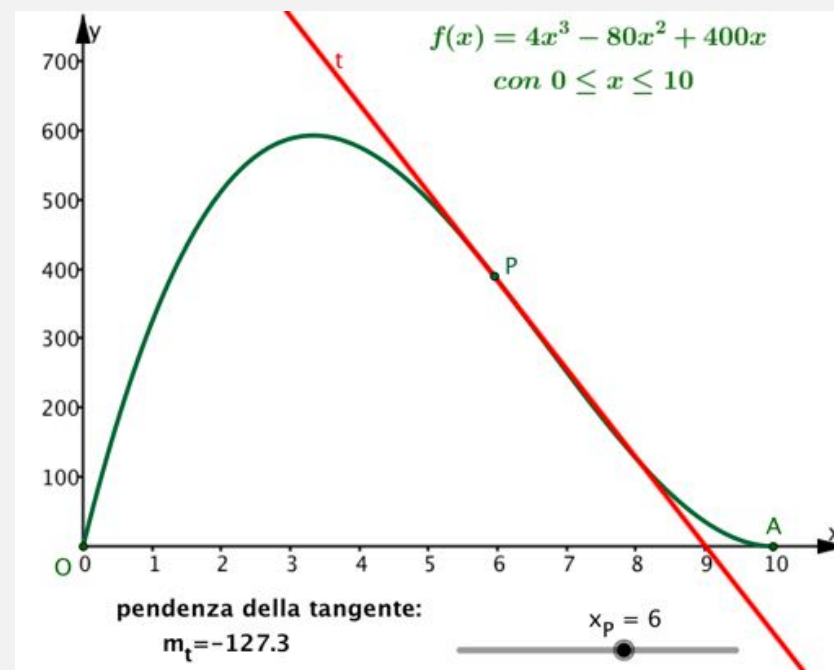


**Come trovo il punto con  
ordinata massima?**

# Osservo il grafico insieme alla retta tangente



**Se  $m_t$  è positiva, P si trova su un arco crescente**

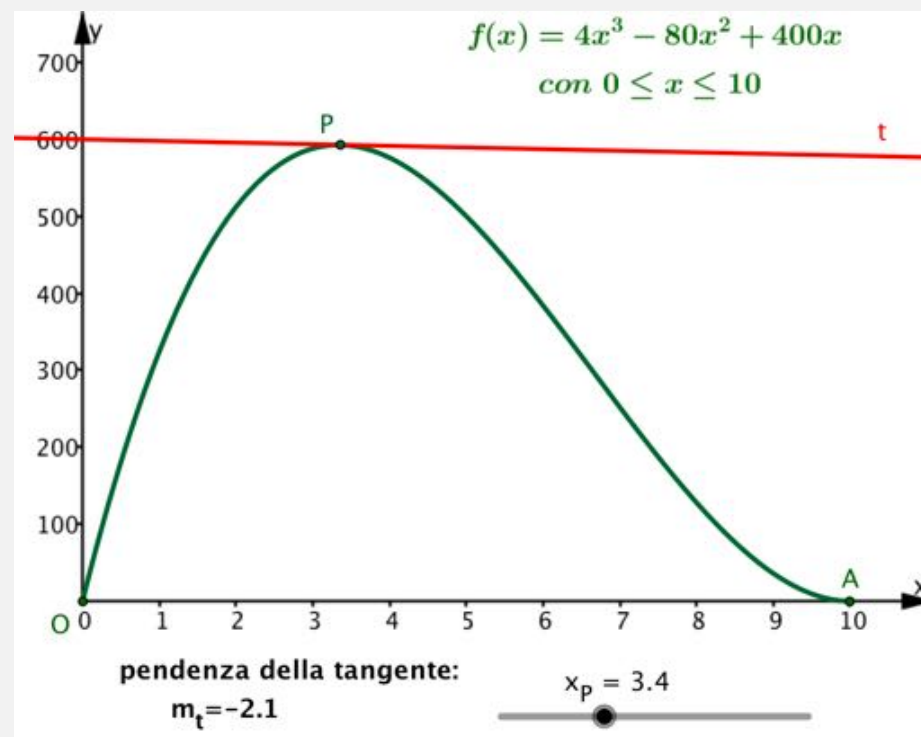
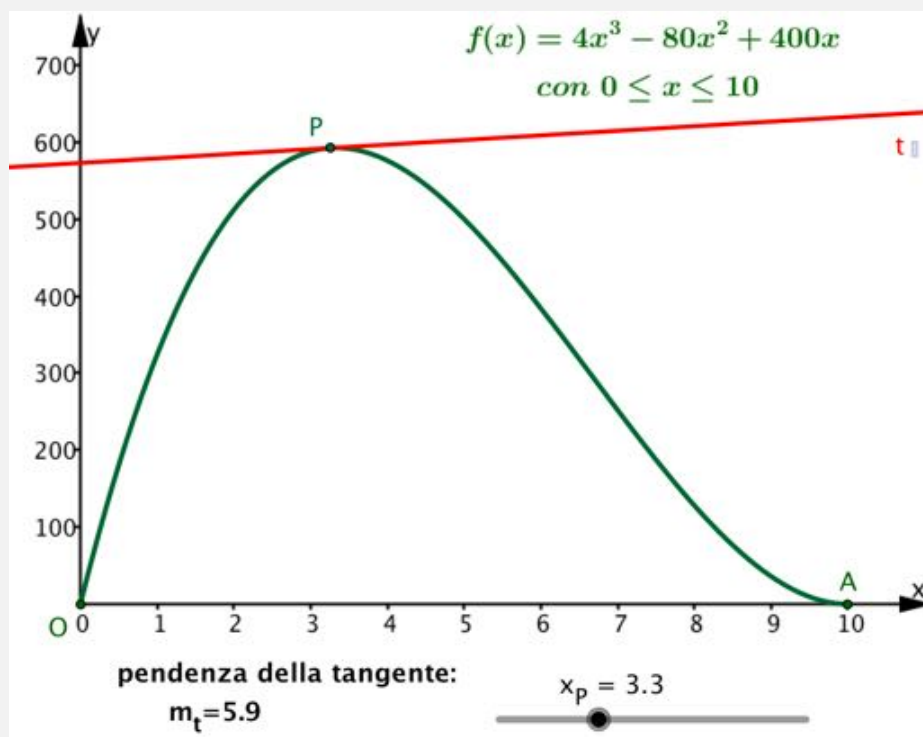


**Se  $m_t$  è negativa, P si trova su un arco decrescente.**

E raggiungo l'ordinata massima nel punto  $M$  in cui l'arco passa da crescente a decrescente e quindi  $m_t$  passa da positiva a negativa.  
**Mi aspetto di trovare nel punto  $M$  la pendenza  $m_t = 0$ .**

# Osservo il grafico insieme alla retta tangente

Ma con il solo il grafico non trovo il punto in cui  $m_t = 0$ .

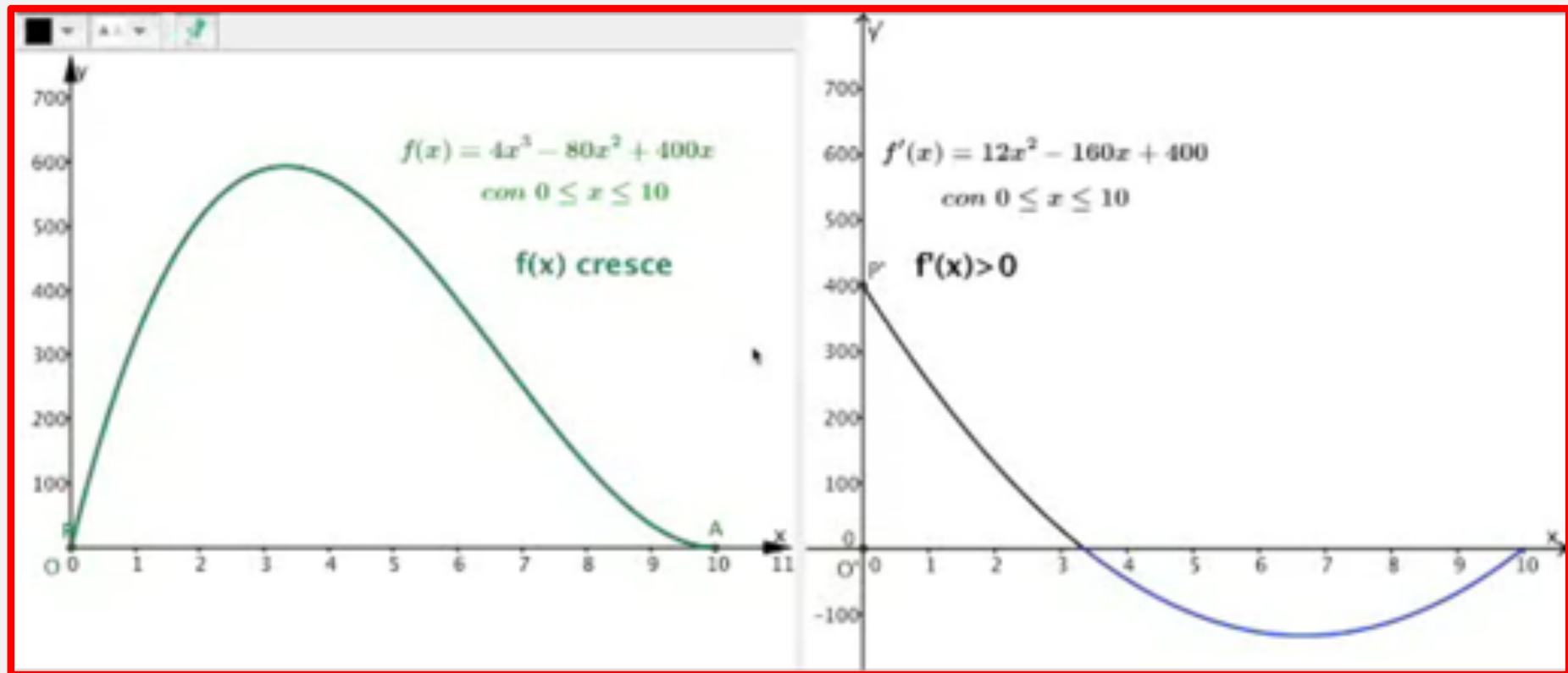


# Pendenza della tangente e funzione derivata

**Come risolvo il problema?**

**Esamino la funzione derivata che, per ogni ascissa, mostra la pendenza della tangente al grafico della funzione.**

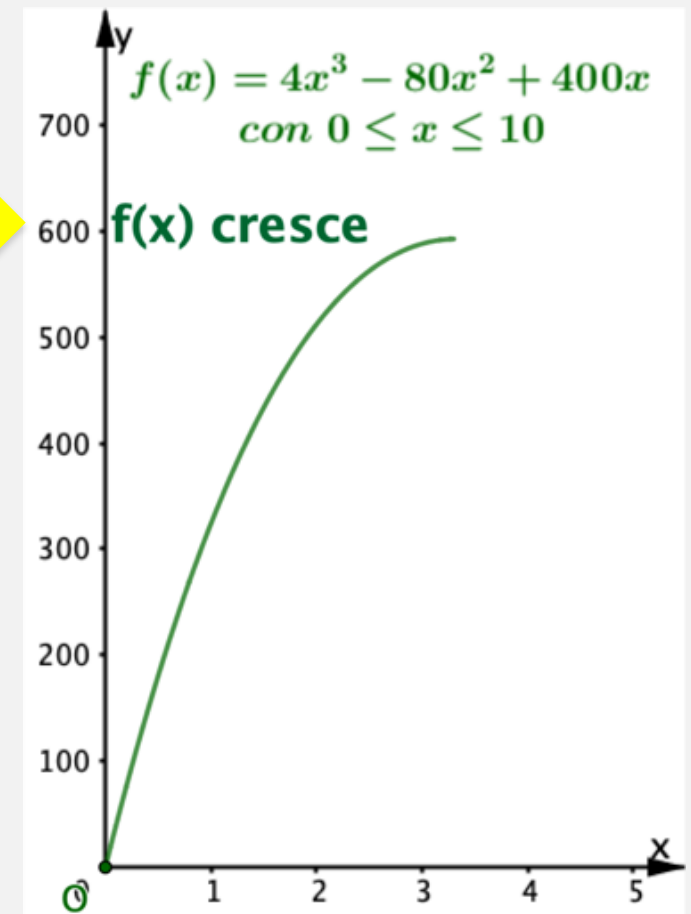
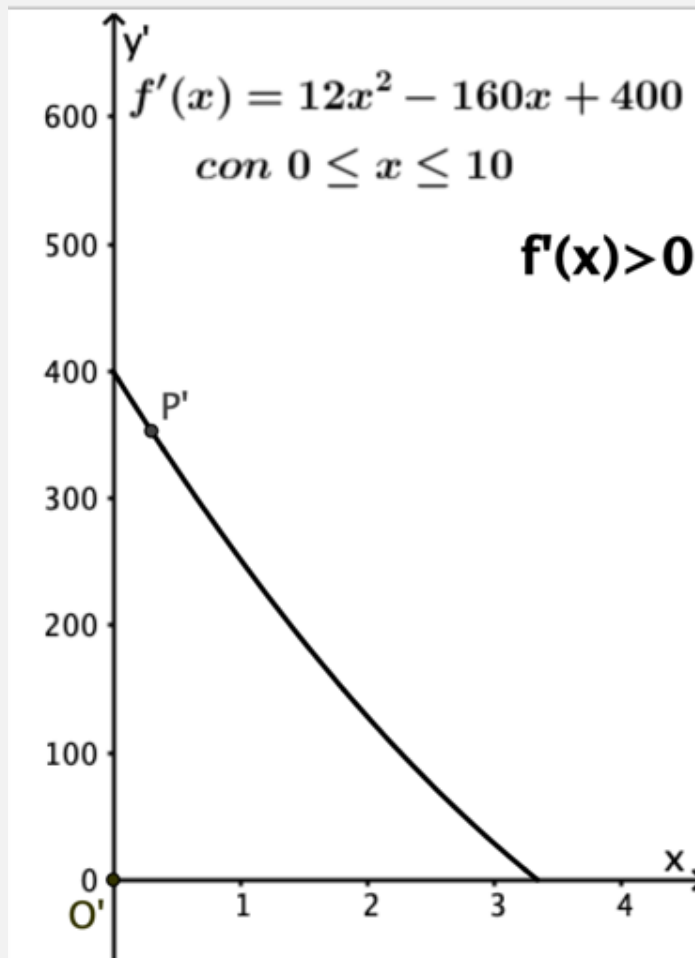
# Pendenza della tangente e funzione derivata



## Video 2

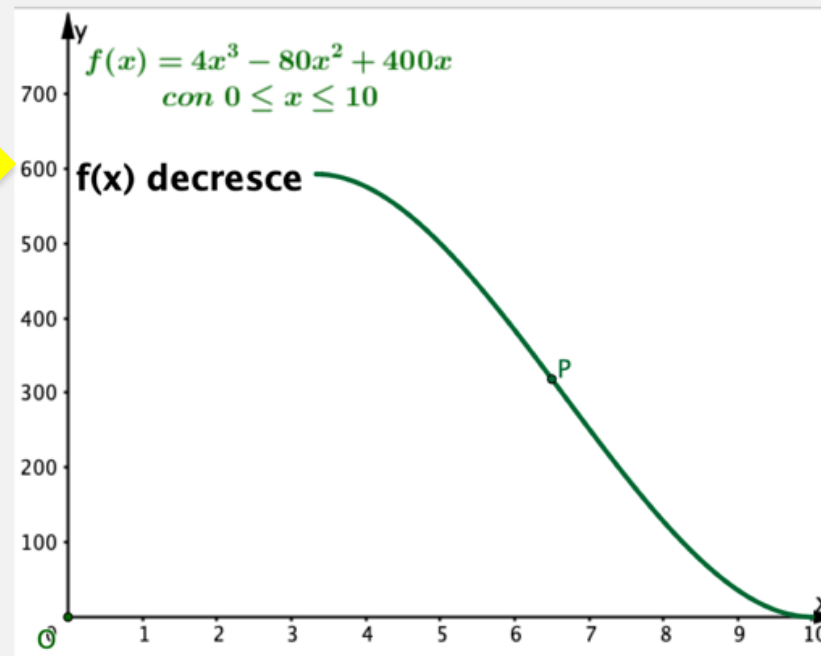
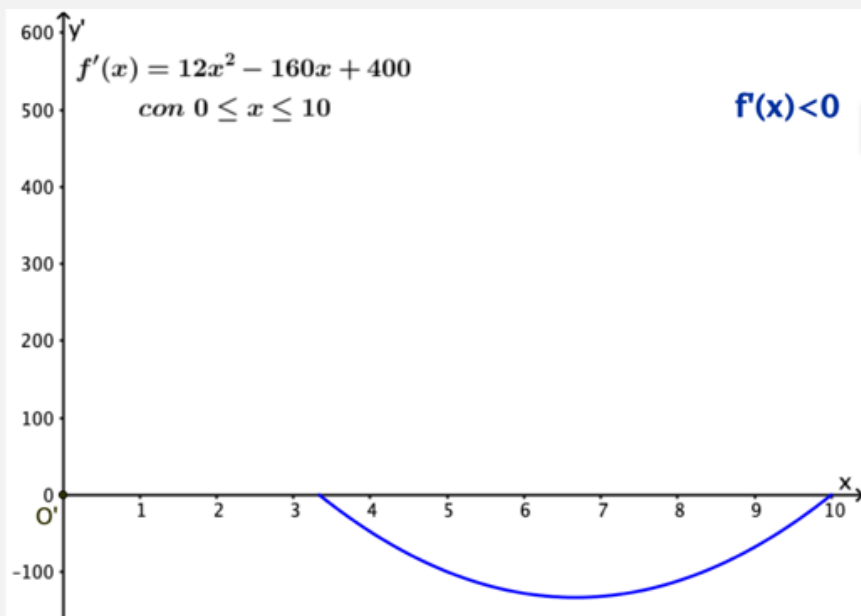
# Segno di $f'(x)$ e crescita di $f(x)$

## Conclusioni suggerite dal video



# Segno di $f'(x)$ e decrescita di $f(x)$

## Conclusioni suggerite dal video



# Ecco come trovo $x$ per avere la scatola di volume $f(x)$ massimo

**1. Calcolo la derivata della funzione  $f(x)$ :**

$$f'(x) = 12x^2 - 160x + 400 \quad \text{con } 0 \leq x \leq 10$$

**2. Calcolo la  $x$  che rende zero la derivata, cioè risolvo l'equazione**

$$12x^2 - 160x + 400 = 0 \quad \text{con } 0 \leq x \leq 10$$

**Per facilitare i calcoli osservo che risulta**

$$12x^2 - 160x + 400 = 4(3x^2 - 40x + 100)$$

**Perciò basta risolvere l'equazione di 2° grado**

$$3x^2 - 40x + 100 = 0$$



## Le soluzioni dell'equazione di 2° grado

Risolvo l'equazione

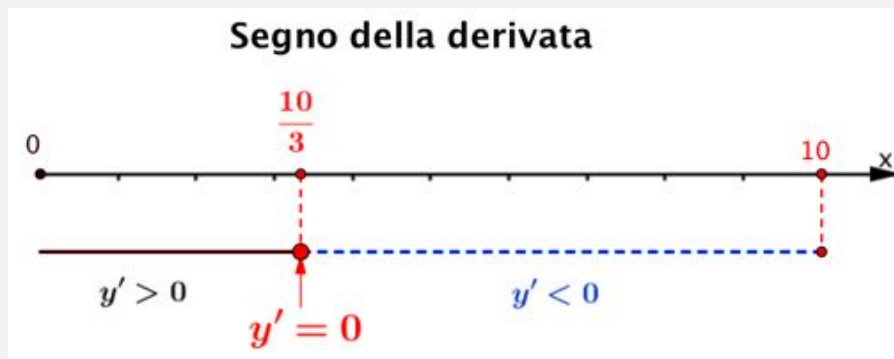
$$3x^2 - 40x + 100 = 0$$

$$\Delta = 40^2 - 4 \cdot 3 \cdot 100 = 400$$

$$x = \frac{40 \pm \sqrt{400}}{6} = \begin{cases} \frac{40 - 20}{6} = \frac{20}{6} = \frac{10}{3} \\ \frac{40 + 20}{6} = \frac{60}{6} = 10 \end{cases}$$

**Ed ecco come completo la ricerca del volume massimo**

# Segno di $f'(x)$ e grafico di $f(x)$



Segno di  $f'(x)$

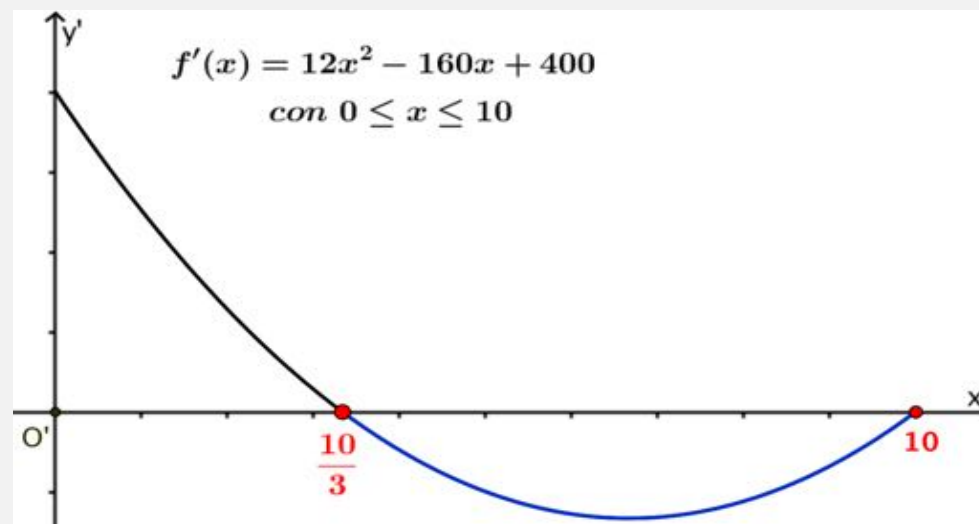
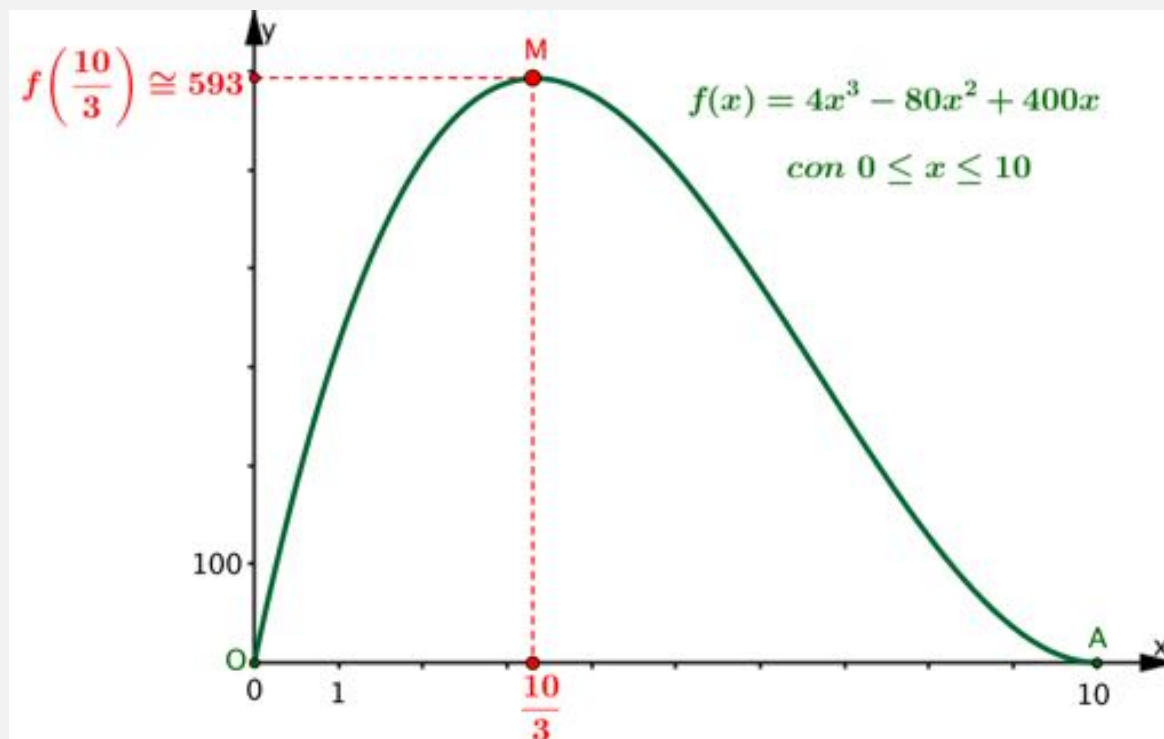
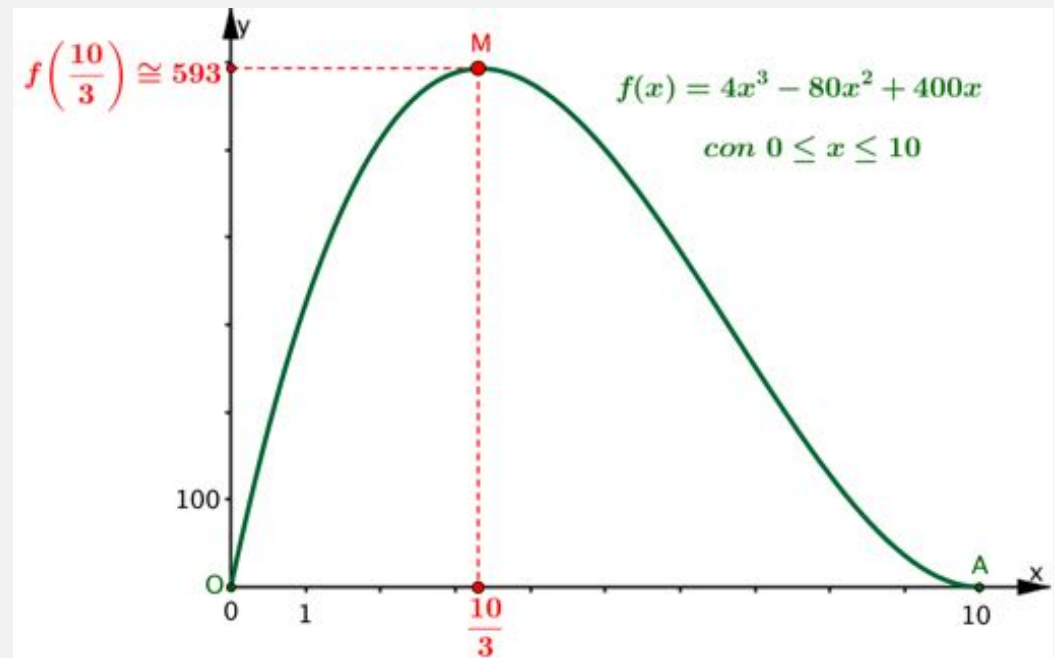
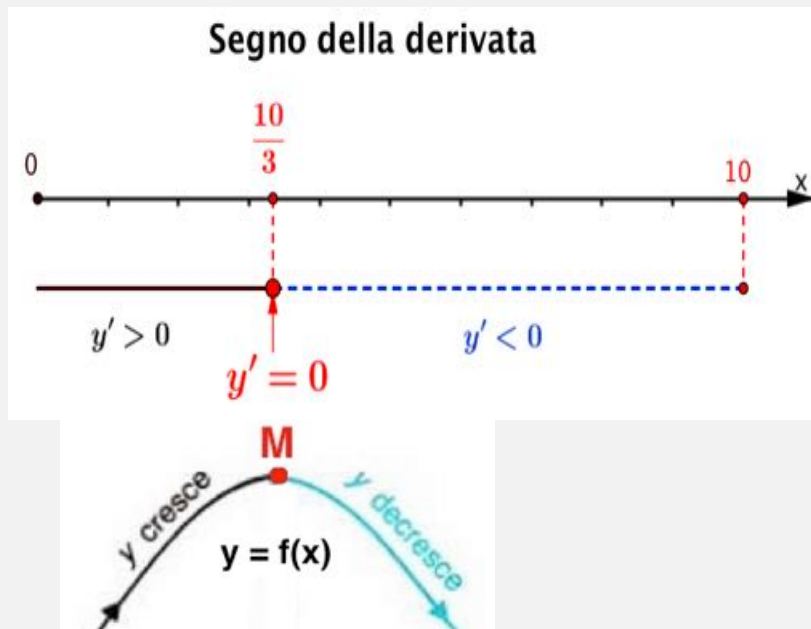


Grafico di  $f(x)$



# Segno di $f'(x)$ e massimo di $f(x)$



Ho così trovato la  $x$  per avere il volume massimo: è  $\frac{10}{3}$ .  
E il volume massimo vale (in  $\text{cm}^3$ )

$$f\left(\frac{10}{3}\right) \cong 592,6$$

# Risolvere un problema di massimo

Per risolvere il ‘problema della scatola’ ho percorso due tappe fondamentali:

- I. Tradurre il problema in una funzione  $y = f(x)$  che lega il volume  $y$  da massimizzare ad una variabile  $x$ .
- II. Determinare il massimo della funzione  $y = f(x)$ .

Mi allontano ora dal problema della scatola e rifletto sulla seconda tappa, per trovare un procedimento di carattere generale, a partire dalla seguente funzione:

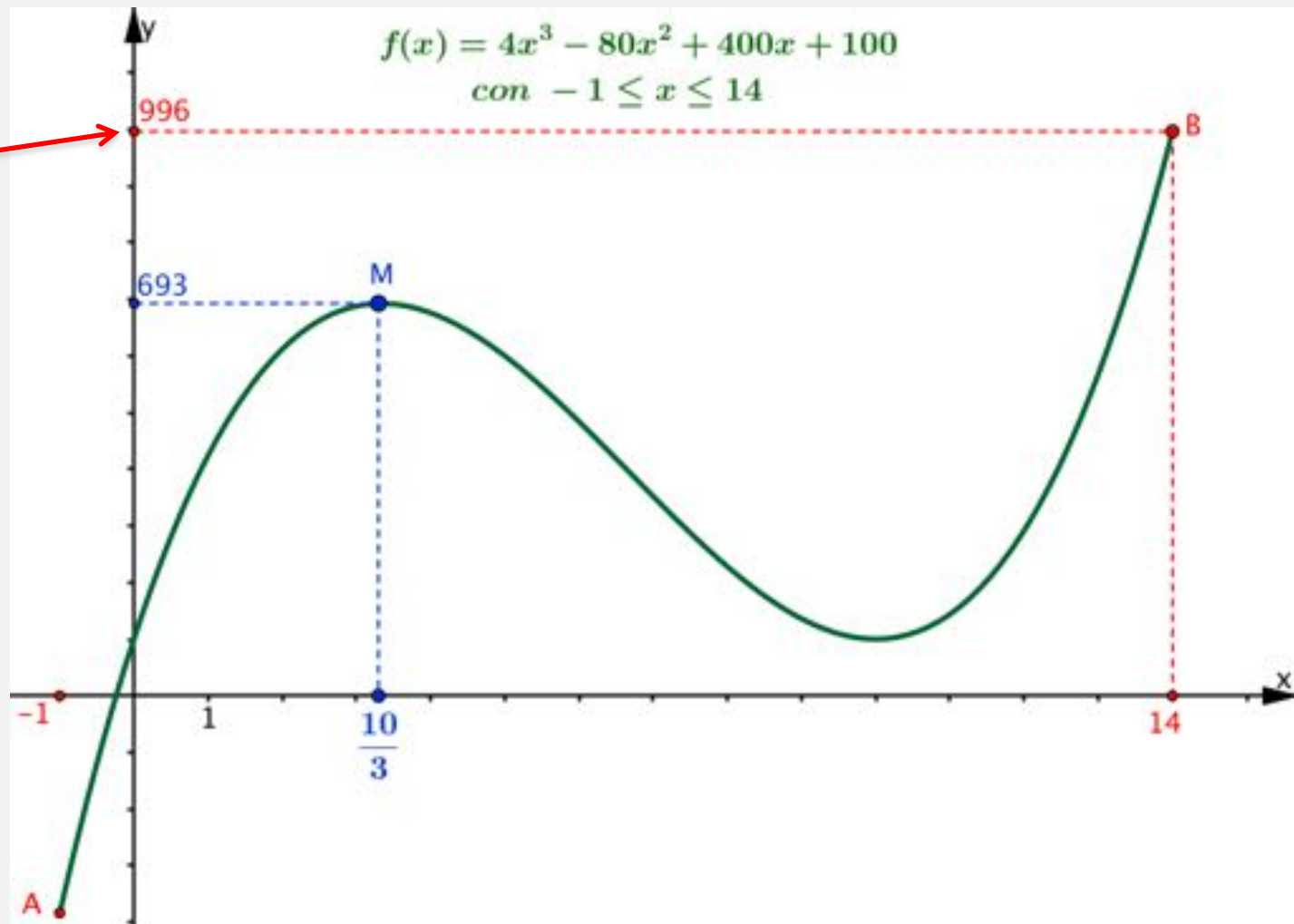
$$f(x) = 4x^3 - 80x^2 + 400x + 100$$

definita nell'intervallo  $[-1, 14]$

# Massimo (assoluto) della funzione $y = f(x)$

È il più grande valore che assume  $y$ , quando  $x$  varia nel dominio dato.

**Massimo  
(assoluto)**

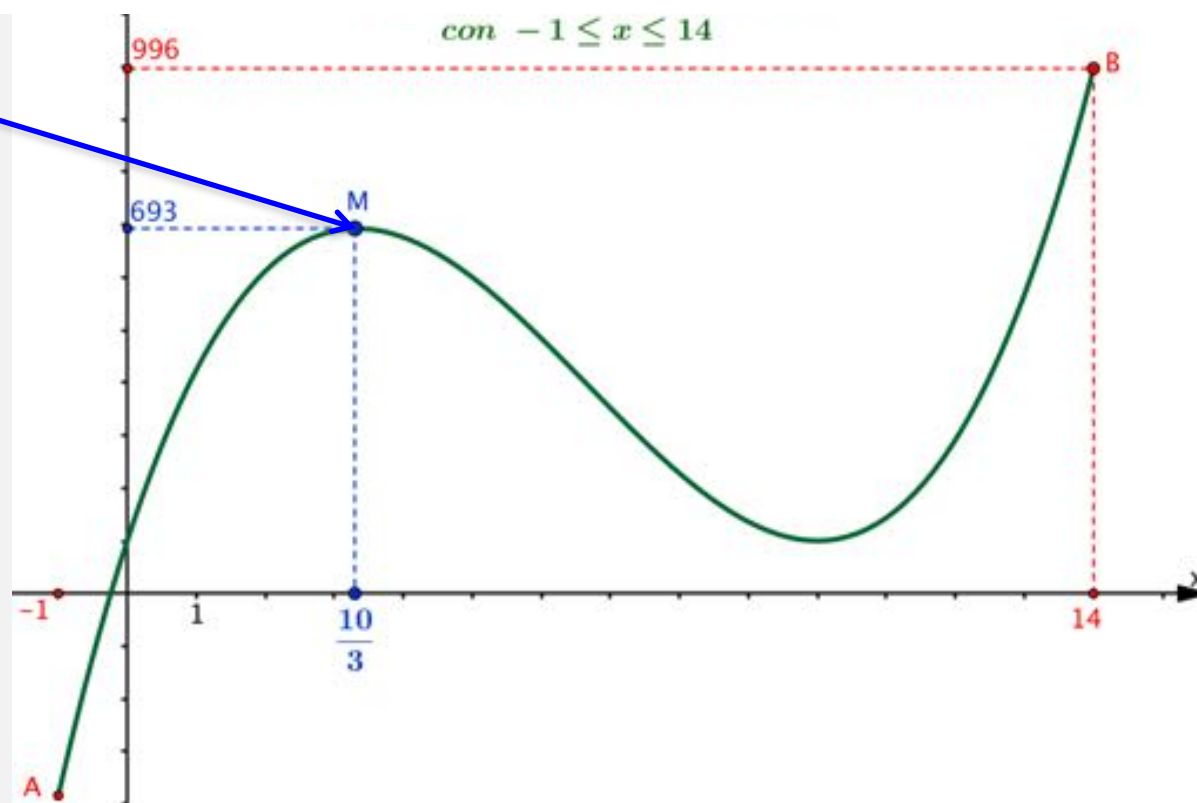


# Punto di massimo relativo della funzione $y = f(x)$

È il punto M di ascissa  $10/3$ , in cui:

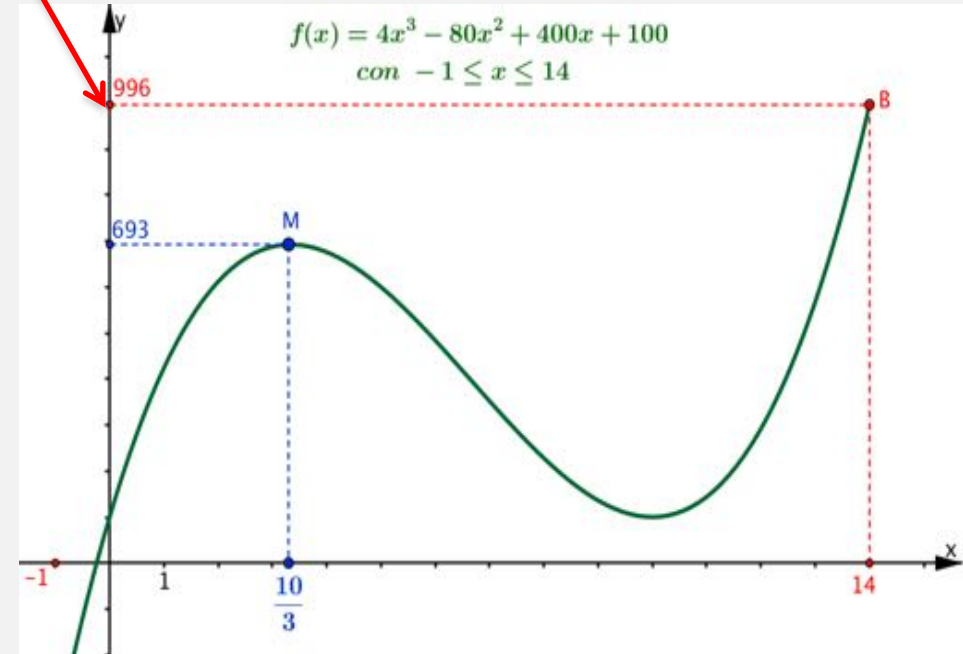
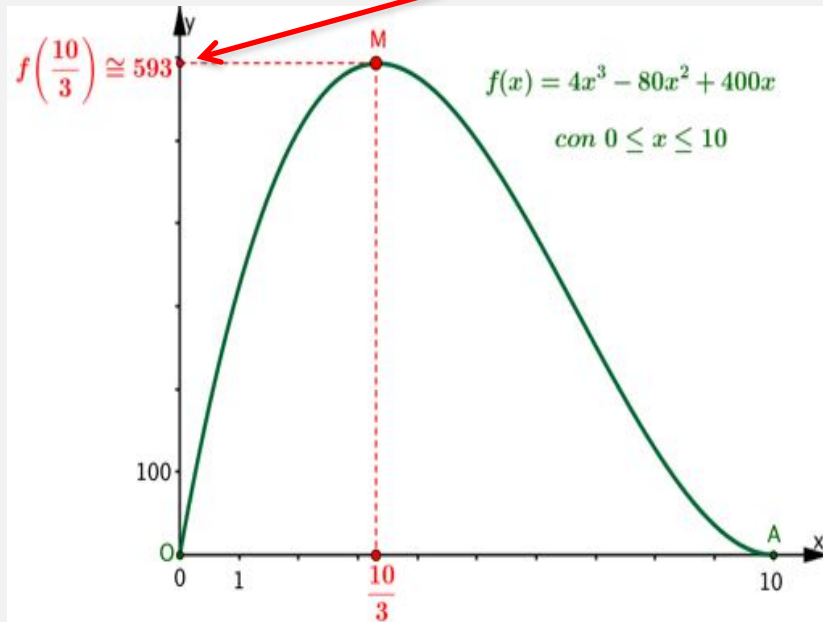
- $y$  ha il valore più grande rispetto ai punti vicini;
- $f'(10/3) = 0$  e il grafico passa da andamento crescente a decrescente

Punto di  
massimo relativo



# Un confronto per riflettere

**Massimo  
(assoluto)**



**Il massimo della funzione è l'ordinata del punto M, che è di massimo relativo**

**Il massimo della funzione è l'ordinata del punto B, che è uno degli estremi dell'arco dato.**

**Cambia il dominio della funzione**

## **Procedimento per determinare il massimo (assoluto) di una funzione $y = f(x)$ , derivabile in un intervallo $[a, b]$**

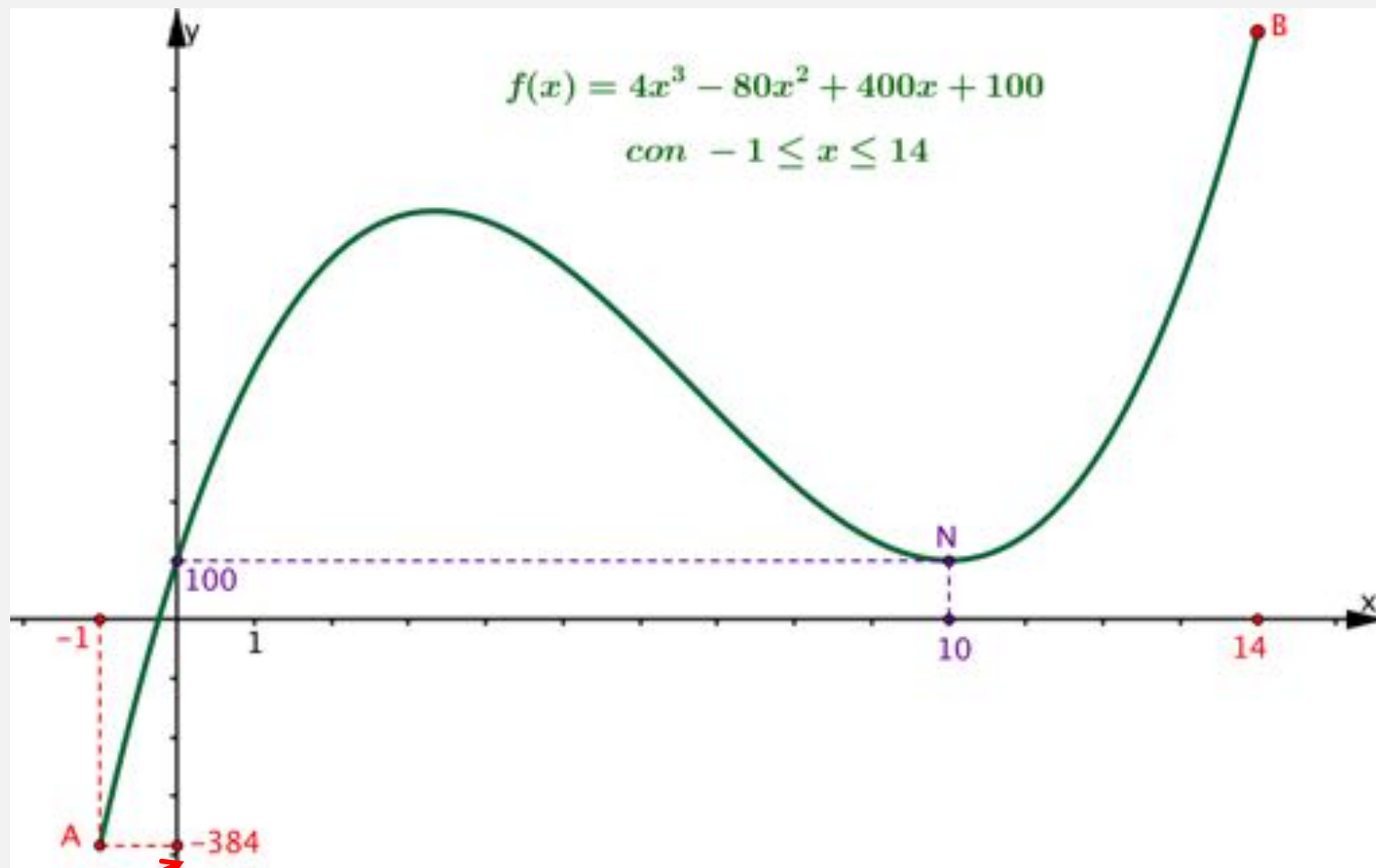
- 1. Calcolo la derivata  $y' = f'(x)$ .**
- 2. Studio il segno di  $f'(x)$  per individuare i punti di massimo relativo.**
- 3. Calcolo  $f(a)$ ,  $f(b)$  e le ordinate dei punti di massimo relativo.**
- 4. L'ordinata più grande è il massimo assoluto richiesto.**



**In modo analogo procedo per  
determinare il minimo della funzione**

# Minimo (assoluto) della funzione $y = f(x)$

È il più piccolo valore che assume  $y$ , quando  $x$  varia nel dominio dato.

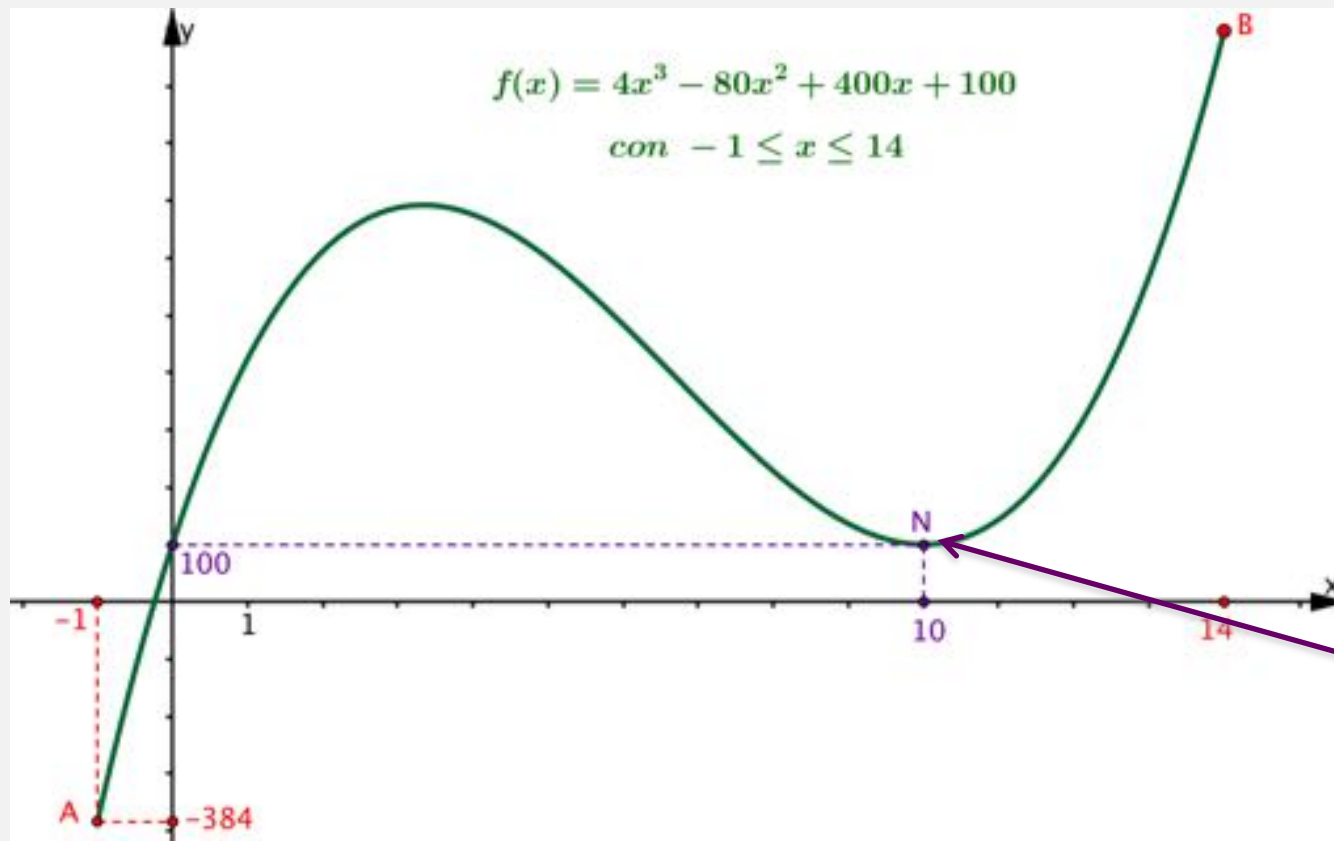


**Minimo  
(assoluto)**

# Punto di minimo relativo della funzione $y = f(x)$

È il punto N di ascissa 10, in cui:

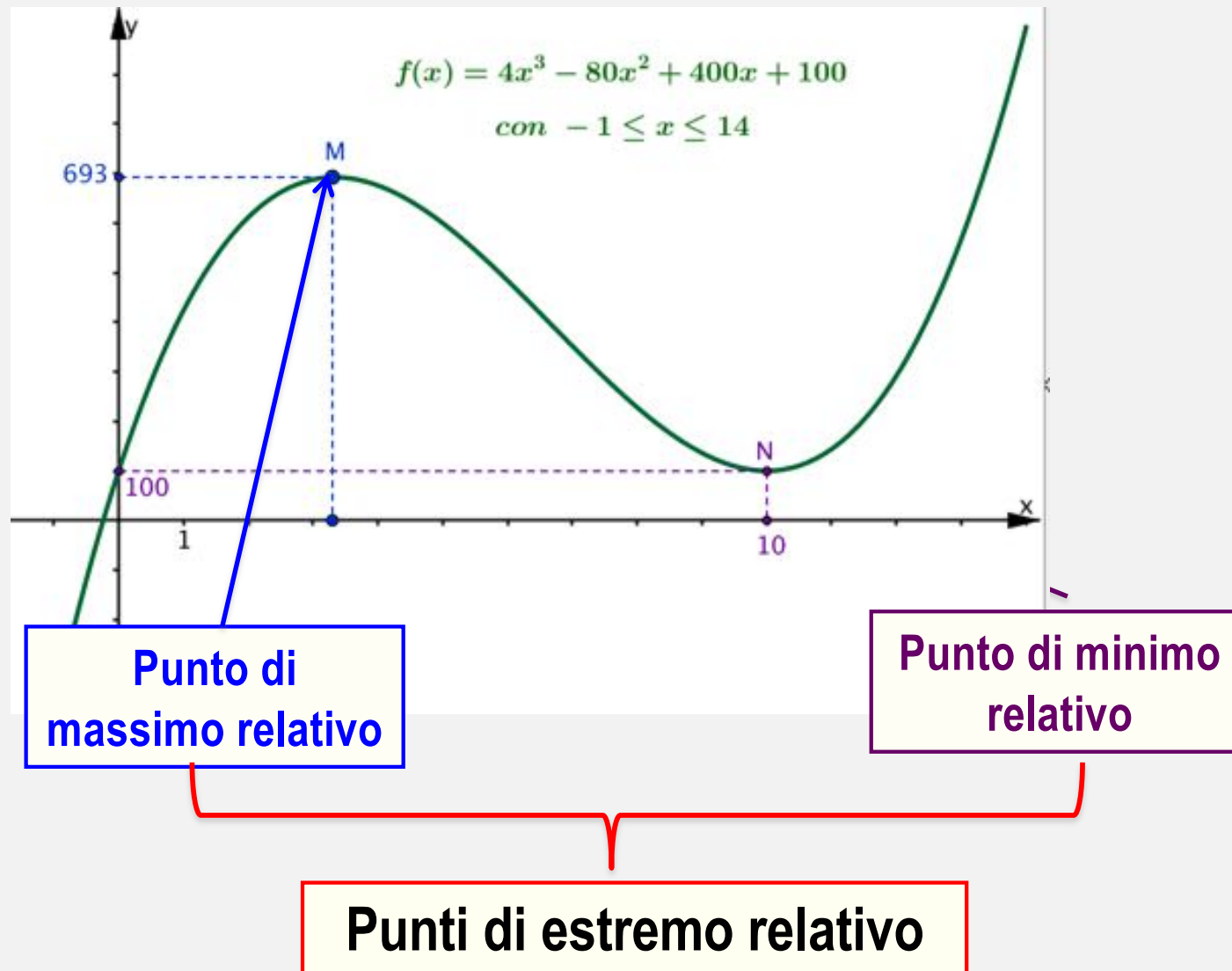
- $y$  ha il valore più piccolo rispetto ai punti vicini;
- risulta  $f'(10) = 0$  e il grafico passa da andamento decrescente a crescente.



## **Procedimento per determinare il minimo (assoluto) di una funzione $y = f(x)$ , derivabile in un intervallo $[a, b]$**

- 1. Calcolo la derivata  $y' = f'(x)$ .**
- 2. Studio il segno di  $f'(x)$  per individuare i punti di minimo relativo.**
- 3. Calcolo  $f(a)$ ,  $f(b)$  e le ordinate dei punti di minimo relativo.**
- 4. L'ordinata più piccola è il minimo assoluto richiesto.**

# Vocabolario matematico



# Attività

**Completa la scheda di lavoro per risolvere un problema di minimo.**

# Riflessioni sul lavoro svolto

# Quesito 1

## **Completa la soluzione del seguente problema**

*Una ditta produce scatole a base quadrata come quella nella figura a fianco. Una scatola deve avere un volume di  $125\text{cm}^3$ ; in quale caso produce la scatola con la minima quantità di cartone?*

La scatola ha la forma di un parallelepipedo a base quadrata. La scatola prodotta con la minima quantità di cartone è quella con superficie totale  $S$  minima.

1. Indica sulla figura:

- il lato di base che ha lunghezza variabile  $x$
- l'altezza, che ha lunghezza variabile  $h$





# Quesiti 2 e 3

2. Spiega perché le seguenti formule esprimono il volume  $V$  e la superficie totale  $S$  del parallelepipedo in funzione di  $x$  ed  $h$ .

$$V = x^2h$$

$$V = \text{Area di base } (x^2) \times \text{altezza } (h)$$

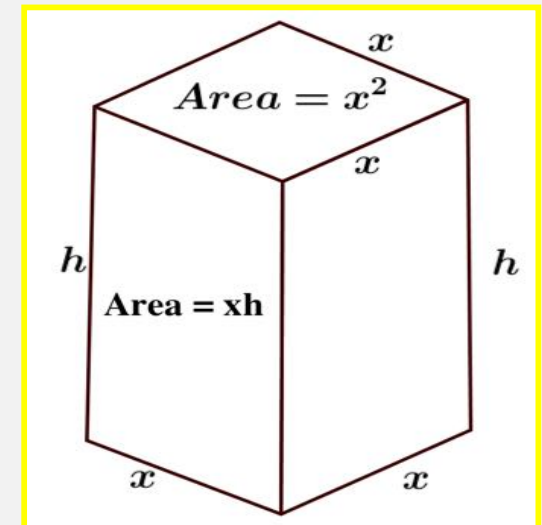
$$S = 2x^2 + 4xh$$

$$S = \text{Area di 2 basi} + \text{area di 4 rettangoli}$$

3. Spiega perché, nel problema assegnato,  $V$  ed  $h$

sono legate dalla relazione  $h = \frac{125}{x^2}$

$$\left. \begin{array}{l} V = x^2h \\ V = 125 \end{array} \right\} \Rightarrow 125 = x^2h \Rightarrow h = \frac{125}{x^2}$$



# Quesiti 4 e 5

4. Spiega perché, nel problema assegnato, la superficie totale  $y$  varia al variare di  $x$  con la legge

$$y = 2x^2 + \frac{500}{x}$$

$$\left. \begin{array}{l} V = 2x^2 + 4xh \\ h = \frac{125}{x^2} \end{array} \right\} \Rightarrow S = 2x^2 + 4x \cdot \frac{125}{x^2} = 2x^2 + \frac{500}{x}$$

5. Se pensi geometricamente al parallelepipedo, quali valori può assumere  $x$ ? Tutti i numeri reali positivi

In simboli:  $x > 0$  oppure  $x \in R^+$

Indica il dominio della funzione ottenuta:  $R^+$

# Quesito 6

6. Spiega perché la derivata della funzione è

$$y' = 4 \left( \frac{x^3 - 125}{x^2} \right) \text{ con dominio } R^+$$

Calcolo la derivata della funzione  $y = 2x^2 + \frac{500}{x}$

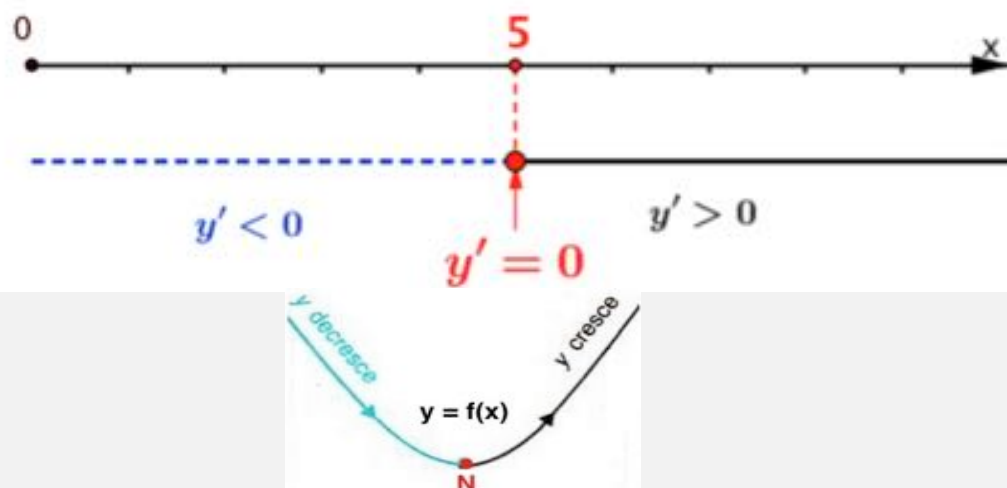
che avrà lo stesso dominio  $R^+$  della funzione

$$y' = 2 \cdot 2x + 500 \cdot \left( -\frac{1}{x^2} \right) = 4x - \frac{500}{x^2} = \frac{4x^3 - 500}{x^2} = 4 \left( \frac{x^3 - 125}{x^2} \right)$$

# Quesiti 7, 8, 9 e 10

7. Quale fra i seguenti schemi rappresenta correttamente lo studio del segno di  $y'$ ?

Schema C



$$y' = 4 \left( \frac{x^3 - 125}{x^2} \right) = \frac{4(x^2 + 5x + 25)}{x^2} (x - 5)$$

con  $x \in \mathbb{R}^+$ , ha lo stesso segno di  $x - 5$

8. Qual è lo spigolo  $x$  che rende minima la superficie totale?  $x_{\min} = 5$

9. Quanto vale l'altezza  $h$  che rende minima la superficie totale?

$$h_{\min} = \frac{125}{5^2} = 5 \quad \text{Il contenitore è il cubo con lo spigolo lungo 5cm.}$$

10. Quanto vale (in  $\text{cm}^2$ ) la superficie minima?  $S_{\min} = 6 \cdot 5^2 = 150$

# Generalizzare il problema

La ditta produce scatole con volumi diversi e ha bisogno di costruire, per ogni volume  $V$ , la scatola con la minima quantità di cartone. Come risolvi questo problema?

Sostituisco la lettera  $V$  al numero 125 e ripeto il procedimento.

Ottingo la funzione  $y = 2x^2 + \frac{4V}{x}$  con dominio  $R^+$

La derivata è  $y' = 4\left(\frac{x^3 - V}{x^2}\right)$  con dominio  $R^+$

La scatola con superficie totale minima è il cubo con lo spigolo lungo (in centimetri)  $\sqrt[3]{V}$ .

**Attenzione!**

**La lettera  $V$  indica il volume, che rimane costante in questo procedimento.**

# Ottimizzazione oggi

**Problemi di ottimizzazione sono oggi studiati nei più vari settori. Ecco qualche esempio:**

- massimizzare i guadagni e minimizzare i costi in economia, sia aziendale che nazionale e internazionale;**
- ottimizzare la distribuzione di ripetitori, antenne, centrali elettriche, pozzi petroliferi, ... in ingegneria;...**



**Alessio Figalli**  
**Roma 1984**

**Medaglia Fields per  
la matematica 2018**

*Studi per ottimizzare  
i trasporti*



**Karen Uhlenbeck**  
**USA 1942**

**Premio Abel 2019**

*Studi su superfici  
minime*