

Grafico di un quoziente di polinomi

Risposte e commenti all'attività

Quesito 1

Completa il procedimento per tracciare il grafico di

$$y = \frac{x^3}{x^2 - 2x + 1} \Leftrightarrow f(x) = \frac{x^3}{(x-1)^2}$$

1. Prime caratteristiche del grafico

Qual è il dominio della funzione?

Insieme dei numeri reali escluso 1

– Qual è il grado della funzione? 3°

$$y = \frac{x^3}{x^2 - 2x + 1} \Rightarrow x^3 - x^2y + 2xy - y = 0$$

– La funzione è pari o dispari?

La funzione non è né pari né dispari

$$f(x) = \frac{x^3}{(x-1)^2}$$

$$f(-x) = \frac{(-x)^3}{(-x-1)^2}$$

$$-f(x) = \frac{-x^3}{(x-1)^2}$$

Quesito 2

2. Determina le equazioni degli eventuali asintoti

Ricerca di asintoto verticale

$$\lim_{x \rightarrow 1} \frac{x^3}{x^2 - 2x + 1} = \infty \Rightarrow \text{asintoto d'equazione } x = 1$$

Ricerca di asintoto obliquo d'equazione $y = mx + q$

$$\lim_{x \rightarrow \infty} \frac{f(x)}{x} = \lim_{x \rightarrow \infty} \frac{x^2}{x^2 - 2x + 1} = 1 \Rightarrow m = 1$$

$$\begin{aligned} \lim_{x \rightarrow \infty} [f(x) - mx] &= \\ &= \lim_{x \rightarrow \infty} \frac{x^3}{x^2 - 2x + 1} - x = \lim_{x \rightarrow \infty} \frac{2x^2 + x}{x^2 - 2x + 1} = 2 \Rightarrow q = 2 \end{aligned}$$

Gli asintoti della curva hanno equazioni:

$$x = 1 \quad \text{e} \quad y = x + 2$$

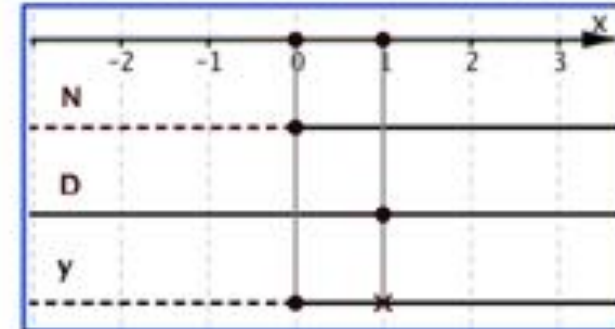
Quesiti 3, 4, 5

3. Completa lo studio del segno di y , anche nello schema a fianco.

$$y = \frac{x^3}{x^2 - 2x + 1} = \frac{N}{D}$$

N ha il segno di x

D = $(x - 1)^2$ è positivo per $x \neq 1$



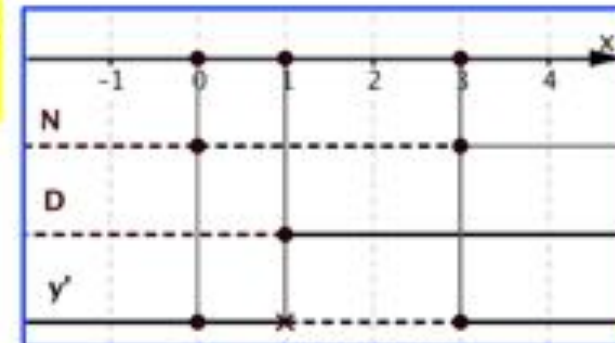
4. Calcola $y' = f'(x)$ e riassumi il segno nello schema a fianco

$$y' = \frac{3x^2(x-1)^2 - x^3 \cdot 2(x-1)}{(x-1)^4} = \frac{x^2(x-3)}{(x-1)^3}$$

N ha il segno di $(x - 3)$

e vale 0 per $x = 3$ o $x = 0$

D ha il segno di $(x - 1)$



5. Calcola la derivata $y'' = f''(x)$

$$y'' = \frac{(3x^2 - 6x)(x-1)^3 - (x^3 - 3x^2)3(x-1)^2}{(x-1)^6} = \frac{6x}{(x-1)^4}$$

y'' ha il segno di x .

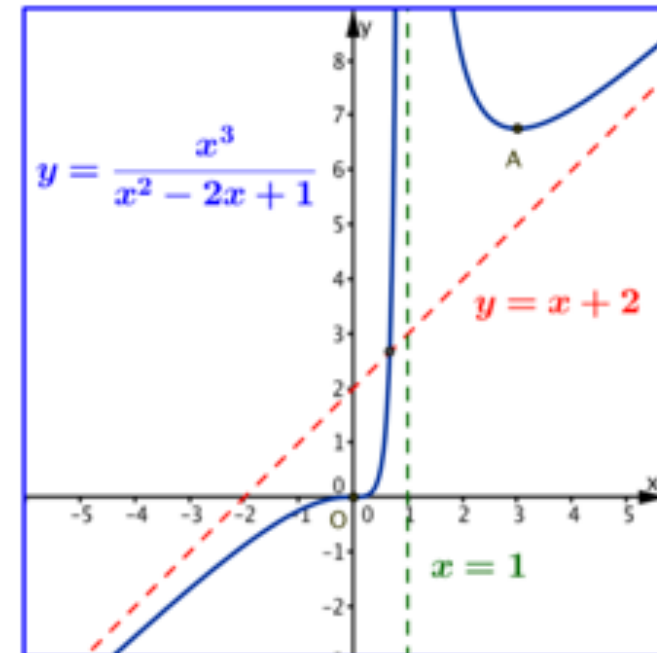

Quesiti 6, 7, 8

6. Riassumi in un unico schema (sotto a sinistra) il segno della funzione e delle sue derivate.
7. Elenca qui sotto i punti notevoli; determinane le ordinate e scrivi l'elenco dei punti sotto lo schema riassuntivo.

$$O(0; 0) \quad A(3; 6,75) \quad y_A = \frac{3^3}{(3-1)^2} = \frac{27}{4} = 6,75$$

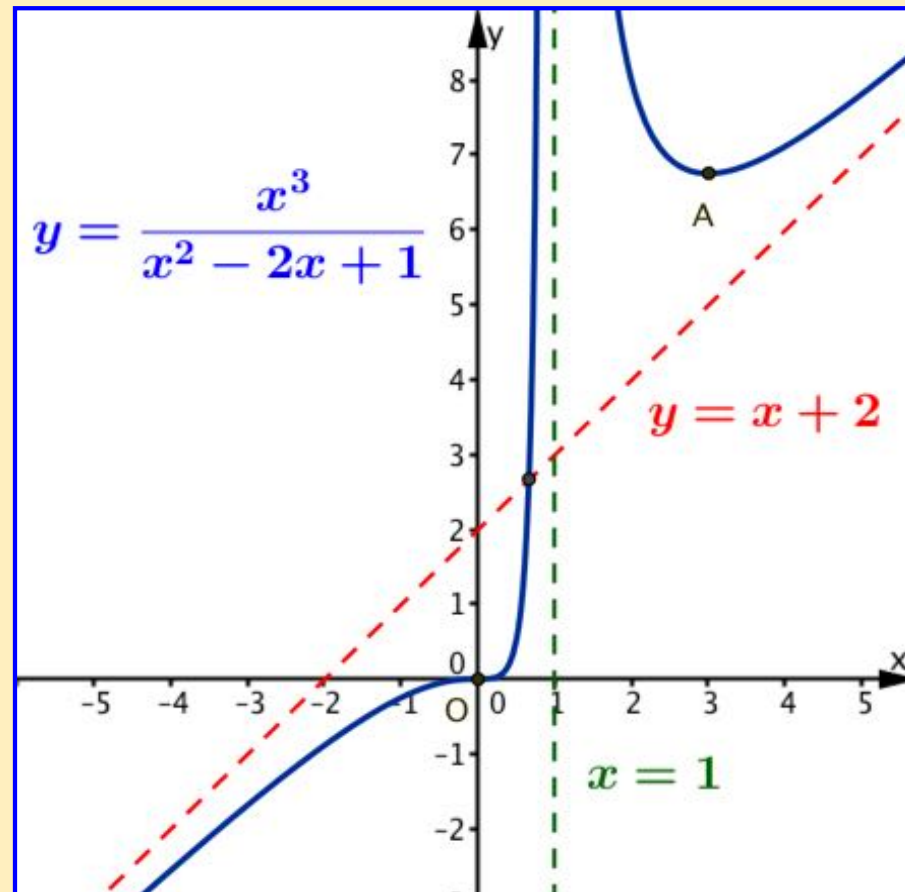
8. Nel piano cartesiano traccia il grafico della funzione e dei suoi asintoti, a partire da tutte le informazioni ottenute.

O flesso
con
 $y'(0) = 0$



Un'osservazione

La curva attraversa il suo asintoto obliquo, mentre non può attraversare il suo asintoto verticale, perché il numero 1 non fa parte del dominio della funzione.



Studiare il grafico di una funzione

Il procedimento completo qui seguito si può applicare per studiare il grafico di qualunque altra funzione.

Un'avvertenza: per calcolare gli asintoti obliqui, la funzione assegnata deve avere insieme di definizione illimitato. Questo si verifica sempre per i quozienti di polinomi, mentre ci sono altre funzioni che hanno un insieme di definizione limitato. Qui sotto richiamo due esempi.

